

	ÉNONCÉ	RÉPONSE	JURY
21)	Un cinquième de 20 œufs œufs	
22)	Trois cinquièmes de 200 g g	
23)	Écris en chiffre : deux-millions-deux-mille		
24)	Il me manque 2 € pour acheter deux BD à 12 € chacune.	J'ai €.	
25)	5 vis pèsent 60 g. Combien pèsent 2 vis ? g	
26)	Complète.	75 cL + cL = 1 L	
27)	Léo et Lisa ont ensemble 10 ans.	Dans 5 ans, il auront ensemble ans.	
28)	Entoure la (les) réponse(s) possible(s).	Une personne mesure : 180 m 180 cm 1,8 m	
29)	Une pile de 4 livres identiques a une hauteur de 10 cm.	Une pile de 6 de ces livres a une hauteur de cm.	
30)	Léo a 12 billes. Il en a 6 fois moins que Zoé.	Zoé a billes.	

NOM:

PRÉNOM:

SCORE: /30

CLASSE:

✓ *Durée: 9 minutes*

✓ *L'épreuve comporte 30 questions.*

✓ *L'usage de la calculatrice et du brouillon sont interdits. Il n'est pas permis d'écrire des calculs intermédiaires.*

SUJET SIXIÈME - JUIN 2018

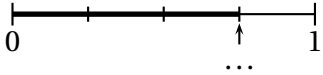


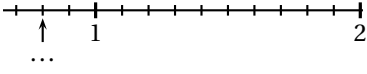
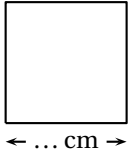
Région académique
NORMANDIE



Région académique
GRAND EST



	ÉNONCÉ	RÉPONSE	JURY
1)	$58 + 9$		
2)	$300 - 101$		
3)	$8 + 8 + 8 + 8$		
4)	9×3		
5)	Complète.	$4 \times \dots = 32$	
6)	Enlève une demi-heure à 1 h 10 min.		
7)	Le quart de 32		
8)	7 vis pèsent 15 g.	\dots vis pèsent 30 g.	
9)	Complète.		
10)	$45 \div 3$		
11)	Écris autrement $\frac{104}{100}$.		
12)	Complète.	$30,5 = \frac{\dots}{\dots}$	

	ÉNONCÉ	RÉPONSE	JURY
13)	Complète.		
14)	Avec 56 roses, un fleuriste fait 8 bouquets identiques.	Il y a \dots roses dans chaque bouquet.	
15)	$1 \div 5$		
16)	Le périmètre de ce carré est de 22 cm. Complète.		
17)	Encadre 0,8 par deux entiers qui se suivent.	$\dots < 0,8 < \dots$	
18)	Quel est le nombre 100 fois plus grand que 3 centièmes ?		
19)	$6 \times 1,5$		
20)	Entoure le plus grand nombre.	$\frac{6}{7}$ $\frac{3}{2}$	