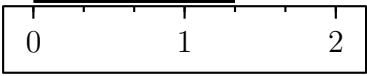
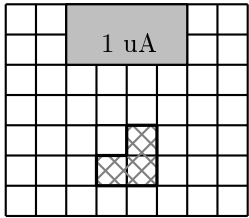


	ÉNONCÉ	RÉPONSE	JURY
24)	Quelle est la mesure du segment ?  unité	
25)	En 10 minutes, mon train électrique fait 6 tours.	En 5 minutes, il fait tours.	
26)	Complète.	$\frac{2}{10} + \frac{5}{100} = \frac{\dots}{100}$	
27)	Complète.	30 min = ... h	
28)	J'ai 13 ans. J'ai 4 ans de plus que mon frère. Quel est l'âge de mon frère ?	Mon frère a ans.	
29)	J'ai 2 tee-shirts différents et 5 pantalons différents.	Je peux m'habiller de façons différentes.	
30)	En grisé, on a représenté une unité d'aire, notée uA. Quelle est l'aire de la figure hachurée ? 	... uA	

NOM:

PRÉNOM:

SCORE: /30

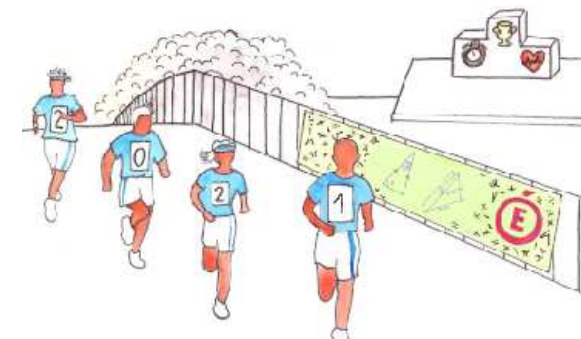
CLASSE:

✓ *Durée: 9 minutes*

✓ *L'épreuve comporte 30 questions.*

✓ *L'usage de la calculatrice et du brouillon sont interdits. Il n'est pas permis d'écrire des calculs intermédiaires.*

SUJET QUATRIÈME - TROISIÈME, SEGPA - JUIN 2021



Lucie Ruch, élève du lycée Fustel de Coulanges - Strasbourg

ACADÉMIE
DE NANCY-METZ

ACADÉMIE
DE LYON



ACADÉMIE
DE REIMS

ACADÉMIE
DE NORMANDIE

ACADÉMIE
DE STRASBOURG

ACADÉMIE
DE VERSAILLES

ACADÉMIE
DE TOULOUSE

	ÉNONCÉ	RÉPONSE	JURY
1)	4×6		
2)	$425 - 11$		
3)	Le triple de 15		
4)	Complète.		
5)	2 carreaux de chocolat pèsent 10 g en tout.	8 carreaux pèsent g.	
6)	7×50		
7)	Complète.	1 kg = g	
8)	Il est 10 h 55. Dans un quart d'heure, quelle heure sera-t-il ?	Il sera ... h ...	
9)	Écris en chiffres : 6 centaines et 22 dizaines		
10)	Le quart de 60		
11)	Complète.	$27 + \dots = 100$	
12)	Un ruban mesure 18 cm. On le coupe en 10 morceaux de même longueur.	Un morceau mesure cm.	

	ÉNONCÉ	RÉPONSE	JURY
13)	Donne l'écriture décimale de $\frac{23}{1000}$.		
14)	Complète la suite logique.	25 50 75 ...	
15)	Voici un cube unité 	Il y a dizaines en tout.	
16)	Entoure la bonne réponse.	La distance de Paris à Lyon est environ 450 km 450 m 450 mm	
17)	Quel est le périmètre d'un triangle équilatéral de côté 4,2 cm ? cm	
18)	Complète.	7 cm = m	
19)	Place le nombre $\frac{7}{5}$.		
20)	Inès a planté 20 fleurs. Elle en cueille 6.	Il reste fleurs.	
21)	Le tiers de 60 dm dm	
22)	Le tiers de 600 € €	
23)	Quel est le nombre cent fois plus petit que 3 ?		