

NOM:

PRÉNOM:

SCORE: /20

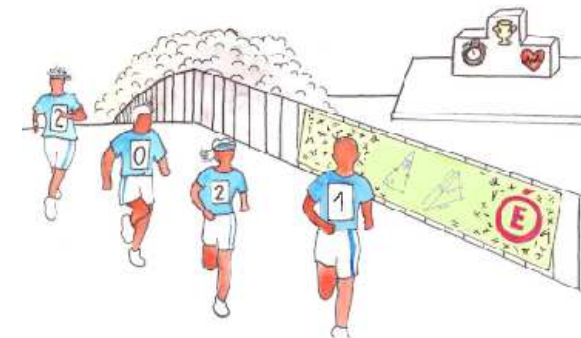
CLASSE:

✓ *Durée: 10 minutes*

✓ *L'épreuve comporte 20 questions.*

✓ *L'usage de la calculatrice et du brouillon sont interdits. Il n'est pas permis d'écrire des calculs intermédiaires.*

SUJET CP JUIN 2021



Lucie Puch, élève du lycée Fustel de Coulanges - Strasbourg

ACADÉMIE
DE NANCY-METZ

ACADÉMIE
DE LYON




ACADÉMIE
DE REIMS

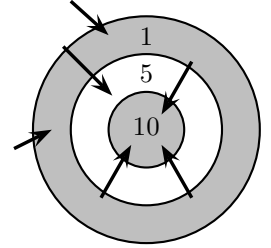
ACADÉMIE
DE NORMANDIE

ACADÉMIE
DE STRASBOURG

ACADÉMIE
DE VERSAILLES

ACADÉMIE
DE TOULOUSE

	ÉNONCÉ	RÉPONSE	JURY							
1)	Complète.	$25 + 10 = \dots\dots$								
2)	La moitié de 12 est :	$\dots\dots$								
3)	Complète.	$10 + 4 + 6 = \dots\dots$								
4)	Complète la case grise de la frise numérique.	<table border="1" style="display: inline-table; border-collapse: collapse;"><tr><td style="width: 20px; height: 20px;">68</td><td style="width: 20px; height: 20px;"></td><td style="width: 20px; height: 20px;"></td><td style="width: 20px; height: 20px; background-color: #cccccc;"></td><td style="width: 20px; height: 20px;"></td><td style="width: 20px; height: 20px;"></td><td style="width: 20px; height: 20px;">75</td></tr></table>	68						75	
68						75				
5)	Complète.	$11 - 3 = \dots$								
6)	Combien ai-je d'argent ? 	J'ai $\dots\dots$ €.								
7)	Écris en chiffres :	9 u et 5 d = $\dots\dots$								
8)	Moussa a 4 paquets de 5 images. Combien a-t-il d'images en tout ?	Il a $\dots\dots$ images.								
9)	Complète.	$7 + 8 = \dots\dots$								
10)	36 pour aller à 40 ?	$\dots\dots$								

	ÉNONCÉ	RÉPONSE	JURY					
11)	Le double de 8 est :	$\dots\dots$						
12)	Ugo a 12 bonbons. Il en mange au goûter. Maintenant, il en a 5. Combien a-t-il mangé de bonbons ?	$\dots\dots$ bonbons.						
13)	Complète.	$34 + 20 = \dots\dots$						
14)	Écris le nombre qui manque dans cette suite logique.	<table border="1" style="display: inline-table; border-collapse: collapse;"><tr><td style="width: 20px; height: 20px;">47</td><td style="width: 20px; height: 20px;">57</td><td style="width: 20px; height: 20px;">67</td><td style="width: 20px; height: 20px;">77</td><td style="width: 20px; height: 20px;"></td></tr></table>	47	57	67	77		
47	57	67	77					
15)	J'ai 15 billes dans ma trousse. 9 billes sont rouges et les autres billes sont vertes. Combien ai-je de billes vertes ?	$\dots\dots$ billes vertes.						
16)	Complète avec < ou >	$56 + 4 \dots 61$						
17)	Combien de points a Alex ? 							
18)	Entoure le plus grand nombre.	58 85 69						
19)	Complète.	$52 + \dots\dots = 60$						
20)	Complète.	$76 - 20 = \dots\dots$						