

BACCALAURÉAT GÉNÉRAL BACHILLERATO

SESSION 2016

HISTOIRE – GÉOGRAPHIE

Toutes séries

DURÉE DE L'ÉPREUVE : 5 heures

L'épreuve est composée uniquement en langue espagnole.
Le candidat traite obligatoirement un sujet d'histoire **et** un sujet de géographie
Chacune des deux parties est notée sur 10 points.
Les calculatrices ne sont pas autorisées.

Coefficient :

Série ES : 5

Série L : 4

Série S : 3

Ce sujet comporte 11 pages numérotées de 1/11 à 11/11.

Primera Parte

HISTORIA

Tema 1: Composición

EUROPA EN CONSTRUCCIÓN DESDE 1947: PROYECTOS, PROCESO, REALIZACIONES

Cronología indicativa:

- 1947: Plan Marshall.
- 1948: Congreso de la Haya.
- 1949: Creación de la OTAN.
- 1952: Proyecto de la CED.
- 1957: Tratado de Roma.
- 1962: Política Agrícola Común.
- 1989: Caída del Muro de Berlín.
- 1992: Tratado de Maastricht.
- 2002: Creación del Euro.
- 2013: Europa de los 28.

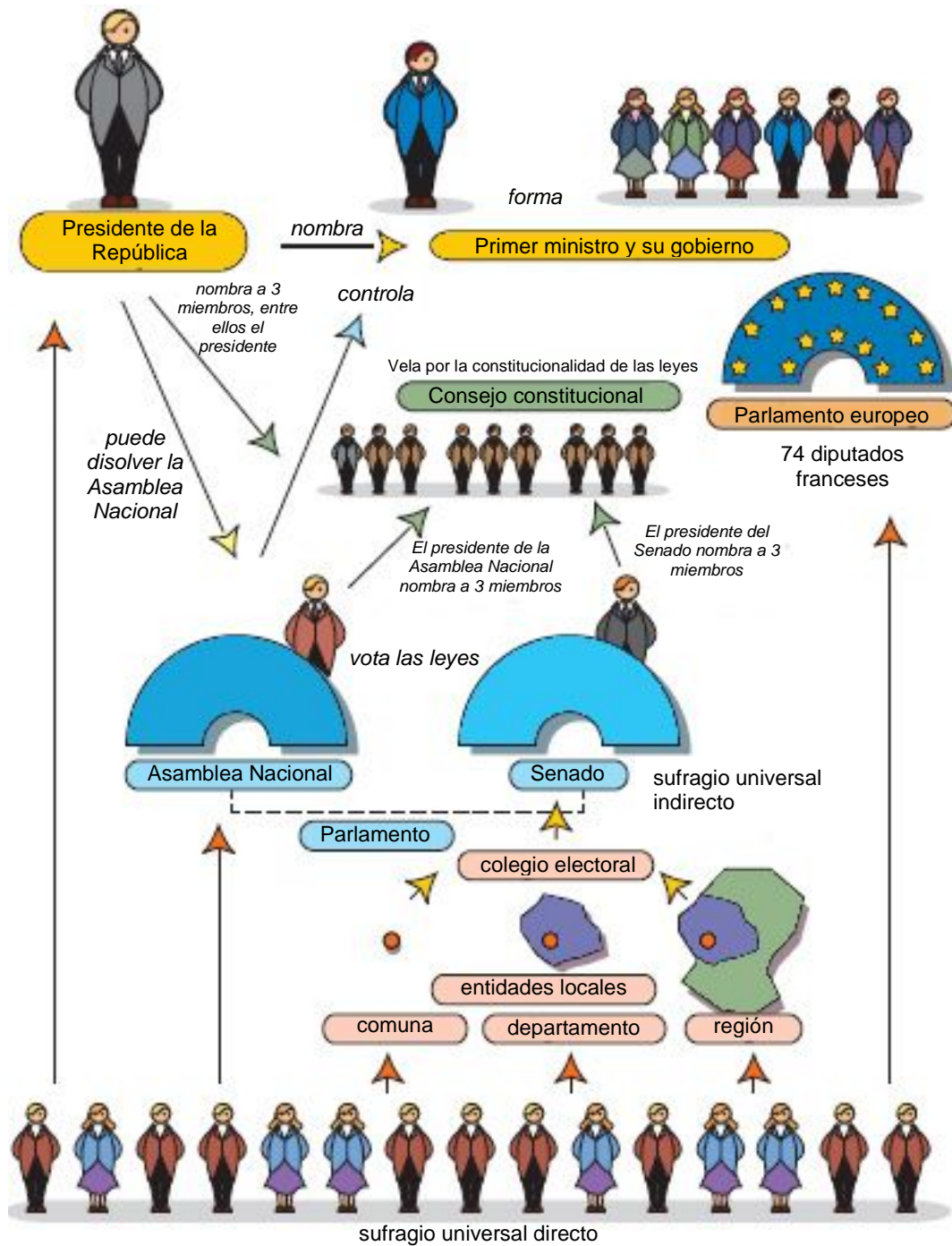
Tema 2: Estudio de un conjunto de documentos

¿CÓMO HA EVOLUCIONADO LA VIDA POLÍTICA EN FRANCIA DESDE 1958?

Documentos:

- Documento 1: La constitución de la Quinta República.
- Documento 2: Ritos y costumbres de la Quinta República (Caricatura de Jean Effel, 30 de enero de 1964).
- Documento 3: Las elecciones presidenciales desde 1965.
- Documento 4: Cohabitación a la francesa.
- Documento 5: Los resultados de la 2ª vuelta de la elección presidencial (El País, 6 de mayo de 2002).

Documento 1: La constitución de la Quinta República.



Fuente: <http://www.diplomatie.gouv.fr/es/francia/instituciones-y-vida-politica/instituciones-y-vida-politica-3203/article/de-la-cohabitacion-a-la>

Documento 2: Ritos y costumbres de la Quinta República.
(Caricatura de Jean Effel, 30 de enero de 1964)



Traducción: *Se les pide, señores periodistas, que me faciliten las preguntas que corresponden a mis respuestas.*

Fuente: http://www.memorial-charlesdegaule.fr/UserFiles_degaule/file/programme_forum_medias.pdf

Documento 3: Las elecciones presidenciales desde 1965¹

Año	Candidato	2ª vuelta % de los votos emitidos	Candidato	2ª vuelta % de los votos emitidos	Abstención 2ª vuelta en %
1965	Charles de Gaulle (UNR-UDT)	55,2%	François Mitterrand (CIR-SFIO)	44,8%	15,7%
1969	Georges Pompidou (UNR)	58,2%	Alain Poher (CD)	41,8%	31,1%
1974	Valéry Giscard d'Estaing (RI-CD)	50,8%	François Mitterrand (PS)	49,2%	12,7%
1981	François Mitterrand (PS)	51,8%	Valéry Giscard d'Estaing (UDF)	48,2%	14,1%
1988	François Mitterrand (PS)	54,0%	Jacques Chirac (RPR)	46,0%	15,9%
1995	Jacques Chirac (RPR)	52,6%	Lionel Jospin (PS)	47,4%	20,3%
2002	Jacques Chirac (UMP)	82,2%	Jean-Marie Le Pen (FN)	17,8%	20,3%
2007	Nicolas Sarkozy (UMP)	53,1 %	Ségolène Royal (PS)	46,9 %	16,0%
2012	François Hollande (PS)	51,6 %	Nicolas Sarkozy (UMP)	48,4 %	19,6%

Fuente: <http://www.ladocumentationfrancaise.fr/dossiers/elections-presidentielles-cinquieme-republique/index.shtml>

*UNR-UDT : Union pour la Nouvelle République – Union Démocratique du Travail.
CIR-SFIO : Convention des Institutions Républicaines – Section Française de l'Internationale Ouvrière.*

RI – CD: Républicains Indépendants – Centre Démocrate.

PS : Parti Socialiste.

UDF : Union pour la Démocratie Française.

RPR : Rassemblement pour la République.

UMP : Union pour un Mouvement Populaire.

FN : Front National.

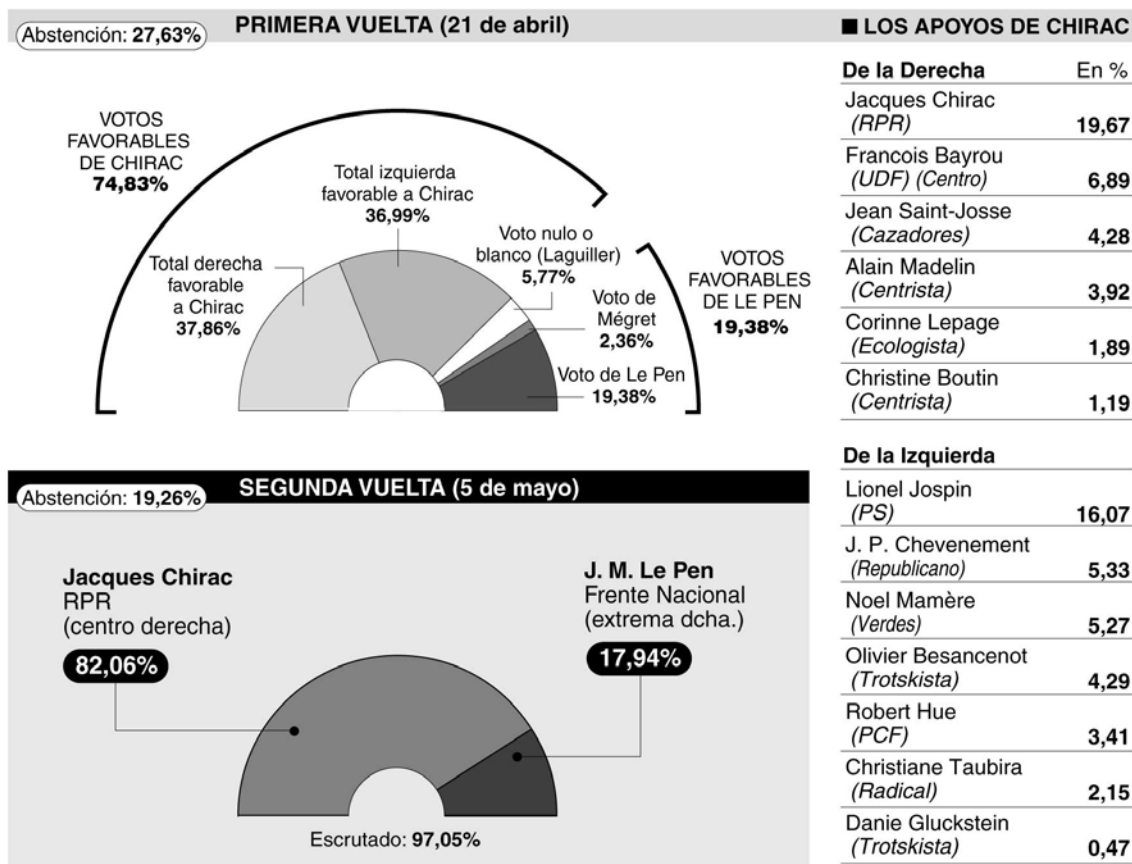
¹ résultats définitifs

Documento 4: Cohabitación a la francesa

Los 44 millones de franceses inscritos en el registro electoral no terminarán sus citas con las urnas el próximo domingo, día 6, con la disputa de la segunda vuelta de las elecciones presidenciales. Nada más acabar la carrera hacia El Elíseo comenzará la precampaña de las legislativas, que se celebrarán, también a doble vuelta, el 10 y el 17 de junio. Los franceses habrán votado, pues, cuatro veces en menos de dos meses. La importancia de los comicios para cubrir los actuales 577 escaños de diputados de la Asamblea Nacional es grande. Y lo es pese a que en un régimen como la Vª República francesa, la Presidencia concentra más poder que el Parlamento, ya que el jefe del Estado tiene la potestad de disolverlo y el gobierno, a diferencia de lo que ocurre en el resto de la UE, rinde cuentas ante el Presidente y no ante la Asamblea. Lo que otorga toda su trascendencia a las legislativas es la posibilidad de que un Presidente pueda encontrarse con una asamblea de color político adverso. Esto desemboca, naturalmente, en el nombramiento de un Primer Ministro y un gobierno de signo contrario al presidencial. Esta situación, conocida en Francia como cohabitación, limita de modo considerable el margen de maniobra del Presidente de la República, que deja de poder utilizar al Primer Ministro y al gobierno como una simple correa de transmisión de sus políticas. En paralelo, la cohabitación da realce al Primer Ministro, acercando más sus poderes de hecho a los que en España ejerce el Presidente del Gobierno. (...)

Fuente: Eugenio Fuentes, 3 de mayo de 2012, La Opinión A Coruña (periódico de la provincia de La Coruña).

Documento 5: Los resultados de la 2ª vuelta de la elección presidencial presentados por el diario El País (6 de mayo de 2002)¹



Fuente: Asamblea Nacional y Ministerio del Interior franceses.

EL PAÍS

¹Resultados la noche de la elección

Preguntas

Primera Parte

Contestar a las siguientes preguntas:

- 1 - ¿Qué tipo de régimen instaaura la Quinta República? (doc. 1).
- 2 - ¿En qué medida la práctica del poder por De Gaulle reforzó la tendencia al presidencialismo? (doc. 2).
- 3 - ¿Cómo han evolucionado las fuerzas políticas en Francia desde 1965? (doc. 3 y 5).
- 4 - ¿A qué se debe la cohabitación? ¿Qué revela la cohabitación a propósito de la evolución de la vida política francesa? (doc. 4).

Segunda Parte

A partir de las respuestas dadas a las distintas preguntas, de las informaciones contenidas en los documentos y de sus conocimientos personales, redacte una respuesta organizada sobre el tema:

“Evolución de la vida política en Francia desde 1958.”

Segunda Parte

GEOGRAFÍA

Tema 1: Composición

LA GLOBALIZACIÓN, ¿UNA OPORTUNIDAD PARA LOS TERRITORIOS?

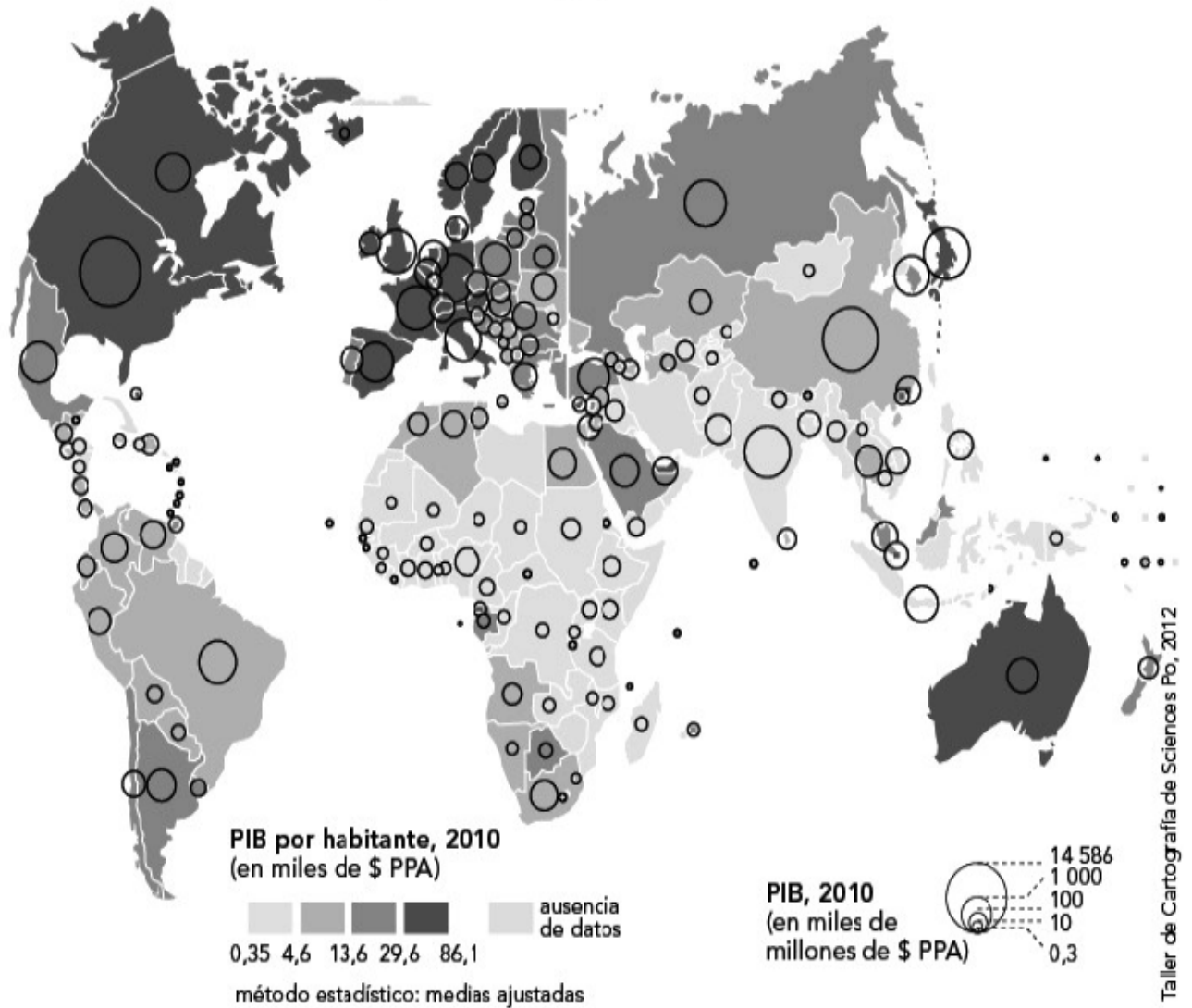
Tema 2: Estudio de un conjunto de documentos

ASIA DEL SUR Y DEL ESTE: LOS RETOS DEL CRECIMIENTO.

Documentos:

1. Producto Interior Bruto por Estado y por habitante, 2010.
2. Características demográficas en Asia del Sur y del Este.
3. La política demográfica en China (Margot da Vara, *El País*, 28 de diciembre de 2013).
4. La fuerte contaminación en Pekín obliga a sus habitantes a refugiarse en casa (José Reinoso, *El País internacional*, 14 de enero de 2013).
5. Las chabolas de Dacca (Bangladés) (Fotógrafo: David Levene para el diario británico *The Guardian*, 30 de noviembre de 2013).

Producto Interior Bruto por Estado y por habitante, 2010



Fuente: Banco Mundial, <http://data.worldbank.org>

ausencia de datos : Irán, Corea del Norte, Zimbabwe, Somalia, Libia, Surinam

Fuente: <http://cartographie.sciences-po.fr/fr/producto-interior-bruto-por-estado-y-por-habitante-2010>

Documento 2: Características demográficas en Asia del Sur y del Este.

País	Crecimiento demográfico anual (2010-2015) en %	Población Junio de 2013 (millones)	Índice de fecundidad
Bangladés	1,3	156,6	2,2
Camboya	1,2	14,4	2,4
China	0,4	1357,4	1,6
Filipinas	1,7	96,2	3,1
India	1,3	1276,5	2,5
Indonesia	1	248,5	2,1
Japón	- 0,1	127,3	1,4
Vietnam	2	89,7	1,8

Fuente : *Etat de la population mondiale 2012, UNFTA ; Rapport sur le développement humain 2013, PNUD ; Population et Avenir, nov-déc 2013, n°715*

Documento 3: La política demográfica en China.

A partir de ahora, algunas parejas podrán tener un segundo hijo, en un intento del presidente, Xi Jinping, de relajar el control de la población para ayudar a contrarrestar una fuerza laboral en declive. Bajo la nueva política, las parejas podrán tener dos hijos si uno de los padres es hijo único. Antes, una pareja sólo podía tener un segundo hijo si ambos padres eran hijos únicos. (...) La política del hijo único, puesta en marcha después de la muerte de Mao en 1976, estaba destinada a aliviar la pobreza y controlar el rápido crecimiento de la población, pero también ha hecho que disminuya la capacidad laboral china. Durante los últimos años, muchos demógrafos han advertido a los líderes chinos de que se avecina una crisis laboral debido a la disminución de las tasas de natalidad, y han instado a los líderes a comenzar a resolver la situación inmediatamente. El número de personas que entran en la fuerza laboral se está reduciendo, al mismo tiempo que la tercera edad va en aumento. Entre 2010 y 2030, se espera que la fuerza laboral de China pierda 67 millones de trabajadores, según las proyecciones de Naciones Unidas. La tasa de natalidad de China se ha reducido a entre 1,5 y 1,6 hijos por pareja, informa Xinhua. La población activa tuvo 3,45 millones de personas menos en 2012 y se reducirá ocho millones cada año después de 2023. China está planeando aumentar la edad de jubilación por primera vez desde los años cincuenta para ayudar a aliviar la escasez de mano de obra. (...) La nueva política ayudará a que la fuerza de trabajo china mantenga un tamaño razonable, se ralentice el envejecimiento de la población y dinamice la economía, declaró Wang Peian, subdirector de la Comisión Nacional de Salud y Planificación Familiar, el mes pasado (...).

Fuente: Margot da Vara, *El País*, 28 de diciembre de 2013

Documento 4: La fuerte contaminación en Pekín obliga a sus habitantes a refugiarse en casa.

El rápido desarrollo que ha experimentado el país desde que lanzó el proceso de apertura y reforma en 1978 ha sacado a cientos de millones de personas de la pobreza y ha conseguido que su economía sea la segunda en tamaño del mundo, detrás de Estados Unidos, pero, a cambio, ha generado grandes desigualdades sociales, corrupción y un grave problema medioambiental. Sus cielos y sus ríos están entre los más contaminados del planeta, y el 10% del suelo contiene niveles de metales pesados superiores a los límites gubernamentales. La polución se ha convertido en una de las principales causas de protestas y movilizaciones sociales. El Gobierno es consciente de que la contaminación amenaza no solo la salud de sus ciudadanos sino también el crecimiento económico. El 12 Plan Quinquenal de Protección Medioambientales (2011-2015) dicta que para 2015 deberán mejorar, entre otros, la calidad del agua en ríos claves como el Amarillo.

Fuente: José Reinoso, *El País*, 14 de enero de 2013

Documento 5: Las chabolas de Daka (Bangladés)



Fuente: Fotógrafo: David Levene para el diario británico *The Guardian*, 30 de noviembre de 2013.

Preguntas

Primera Parte

Contestar a las siguientes preguntas:

1. Mostrar la diversidad en el reparto de la riqueza en Asia del Sur y del Este. (doc. 1)
2. ¿Qué problemas de desarrollo plantean las características demográficas de Asia del Sur y del Este? (doc. 2)
3. ¿Cómo ha adaptado China sus políticas demográficas a sus necesidades? (doc. 3)
4. ¿Cuáles son los límites del desarrollo económico y social en Asia del Sur y del Este? (doc. 4 y 5)

Segunda Parte

A partir de las respuestas dadas a las distintas preguntas, de las informaciones contenidas en los documentos y de sus conocimientos personales, redacte una respuesta organizada sobre el tema:

“Asia del Sur y del Este: los retos del crecimiento”.